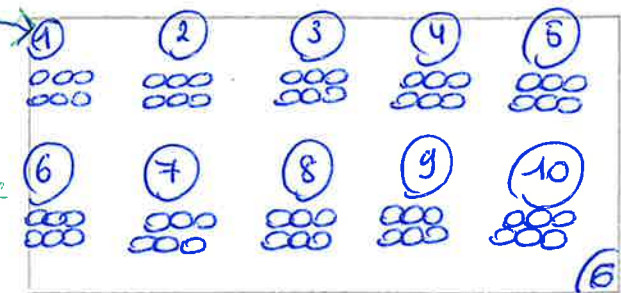


3 Los op. ~~Volg het stappenplan.~~

Leo koopt 60 abrikozen en verdeelt die over 10 manden.

*Stap 1 van de tekening = 10 manden tekenen
Stap 2 " " " = 60 verdelen over de 10 manden*



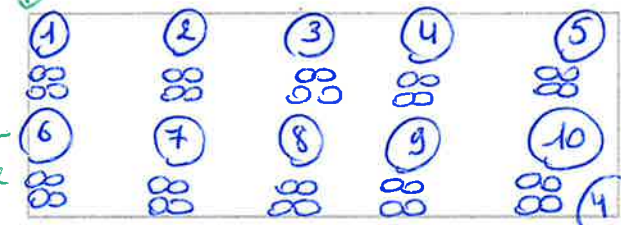
? Hoeveel abrikozen liggen er in elke mand?
60 : 10 = 6

Per mand liggen er 6 abrikozen.

Over de 10 manden moeten ook 40 appels verdeeld worden.



*Stap 1: 10 manden tekenen
Stap 2: 40 verdelen over de 10 manden*

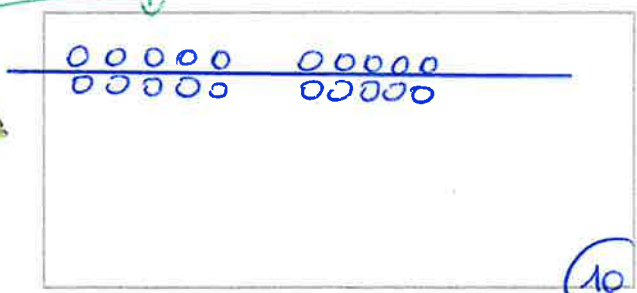


? Hoeveel appels kun je in elk mandje leggen?
40 : 10 = 4

In elke mand kun je 4 appels leggen.

Papa gaat naar de markt en koopt 20 stengels prei. De helft is voor oma.

*Stap 1: teken 20 bollen
Stap 2: deel de 20 bollen in 2*

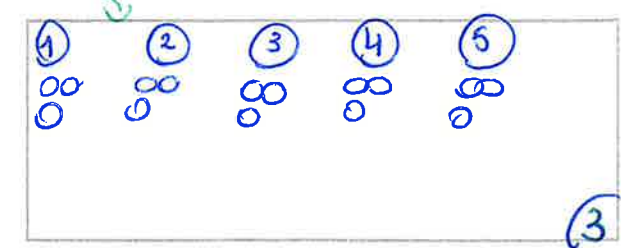


? Hoeveel stengels prei zijn er voor oma?
20 : 2 = 10

Oma krijgt 10 stengels prei.

Mama kocht 15 flessen wijn. Die wijn zit in 5 kistjes.

*Stap 1: teken de 5 kistjes.
Stap 2: verdeel 15 over de 5 kistjes.*



? Hoeveel flessen wijn zitten er in 1 kistje?
15 : 5 = 3

In 1 kist zitten er 3 flessen.